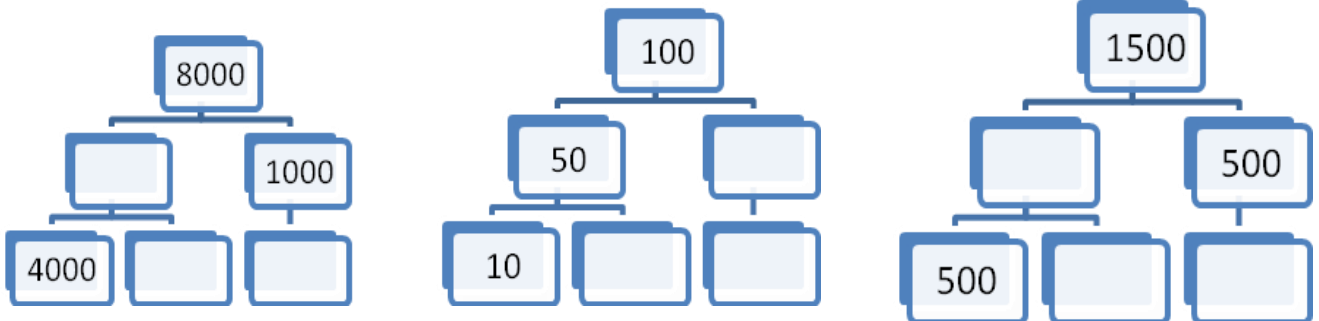


Ficha de Matemática

1. Completa.

Classe Milhares			Classe Unidades			Decomposição	Leitura do número por ordens
C	D	U	C	D	U		
	7	2	0	2	4		
5	7	9	1	5	7		
		9	3	5	6		
3	8	6	8	4	7		

2. Decompõe.



3. Resolve, relembrando as regras da multiplicação por 10,100,1000

$104 \times 10 =$	$734 \times 100 =$
$7 \times 1000 =$	$53 \times 10 =$
$926 \times 100 =$	$37 \times 1000 =$
$836 \times 1000 =$	$9 \times 10 =$


4. Completa.

Uma dezena _____ Meia dezena _____ Uma dúzia _____


Meia dúzia _____ Uma centena _____ Meia centena _____

Um milhar _____ Uma dezena milhar _____ Uma centena de milhar _____


5. Como se representa sob a forma de fração a parte pintada de cada uma das figuras




A



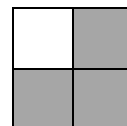
B



C



D



E

6. A Rita preparou uma sanduíche comprida para o lanche da família. Dividiu a sanduíche em quatro partes iguais. A Rita comeu uma parte e o pai comeu duas partes. Representa o que se passou.

a) Que parte da sanduíche foi comida pela Rita?

b) Que parte da sanduíche foi comida pelo pai?

c) Que parte da sanduíche sobrou?