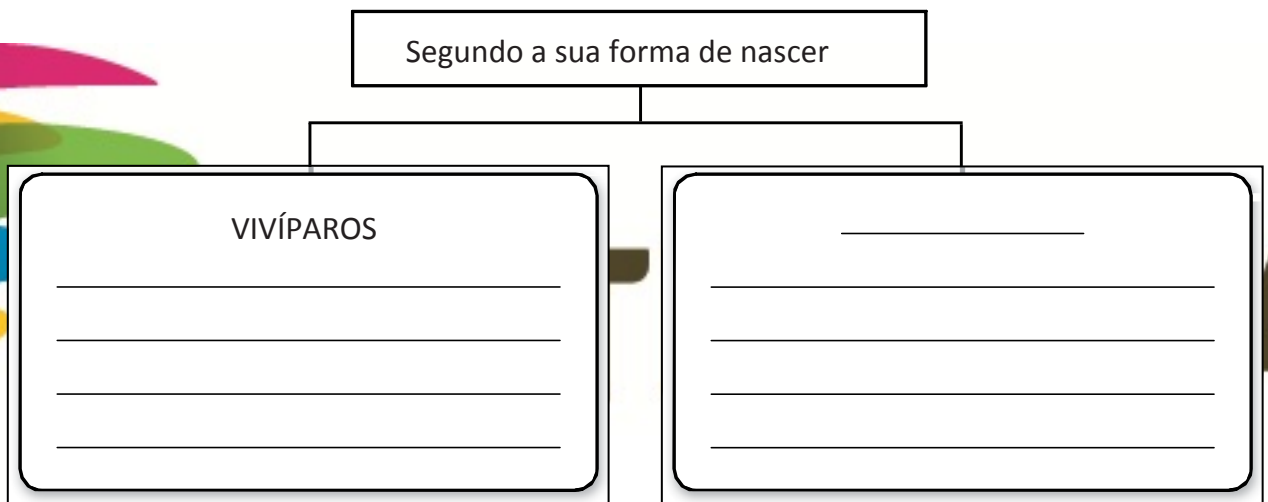
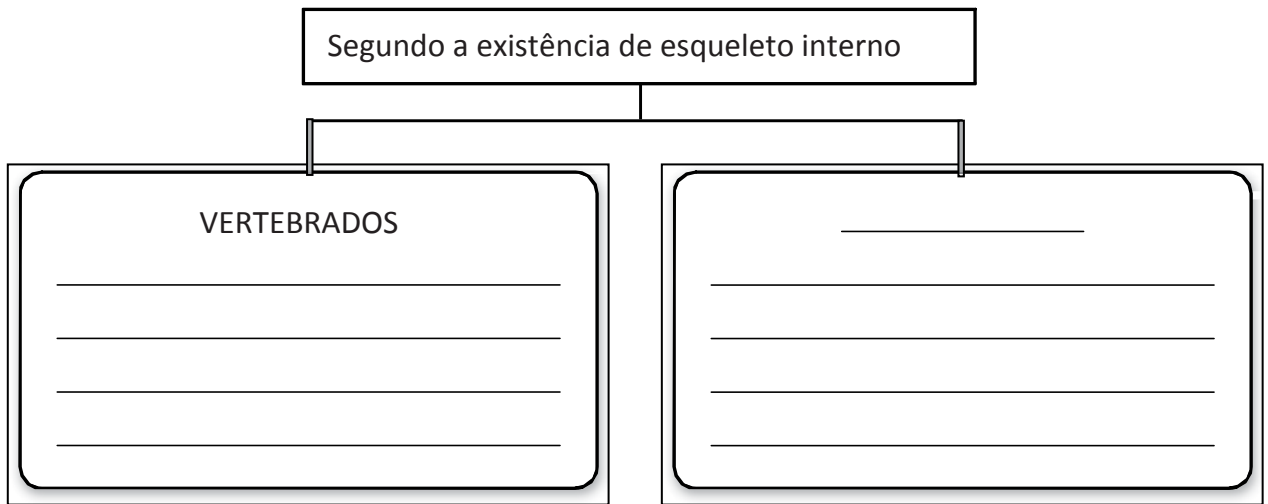


Nome: _____ Data: ____/____/____

Classificação dos animais

1. Observa as seguintes imagens de animais e completa a classificação, distribuindo corretamente os animais pelos grupos.



Nome: _____ Data: ____/____/____

Classificação dos animais

1. Assinala com uma cruz (X) o grupo de animais que possui as características indicadas.

| | Mamíferos | Aves | Anfíbios | Peixes | Répteis |
|-----------------------|-----------|------|----------|--------|---------|
| Respiram ar | | | | | |
| São ovíparos | | | | | |
| Têm asas | | | | | |
| Têm barbatanas | | | | | |
| Têm esqueleto interno | | | | | |
| Têm seis patas | | | | | |

2. Observa os seguintes animais vertebrados e organiza-os em grupos escrevendo o nome de cada animal no local correto.


Mamíferos:

Aves:

Répteis:

Peixes:

Anfíbios:



Nome: _____ Data: ____/____/____

O revestimento do corpo dos animais

1. Liga cada animal invertebrado ao tipo de esqueleto externo que apresenta.



Mexilhão

Concha



Gafanhoto



Aranha

Carapaça



Caracol



Libelinha

Esqueleto externo de quitina



Caranguejo


2. Observa as imagens dos seguintes animais e descreve o revestimento do corpo de cada um deles.



Rã



Lagarto




Lebre



Tartaruga



Urso



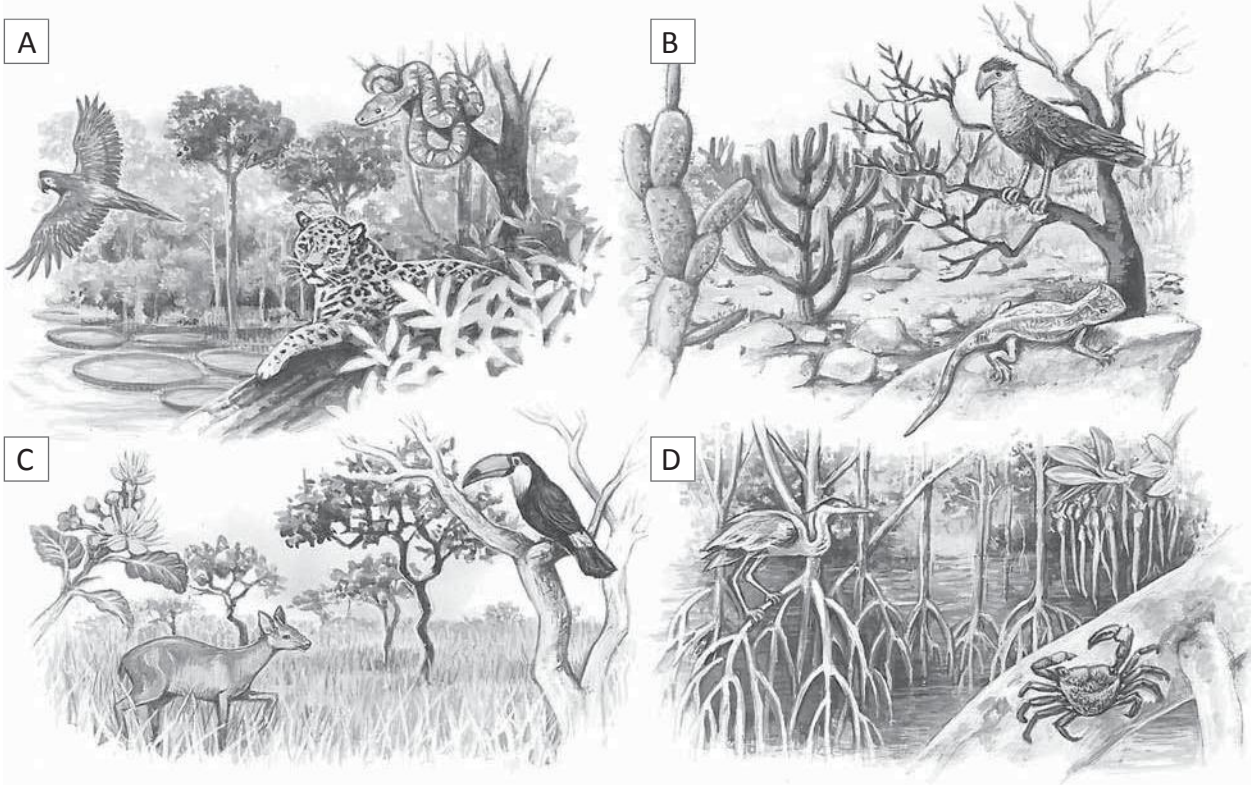
Cobra



Nome: _____ Data: ____/____/____

A alimentação dos animais

1. Observa as imagens seguintes e dá especial atenção aos animais representados em cada um dos ambientes.



a) Descreve o tipo de alimentação que cada animal deve ter no ambiente onde se encontra.

Ambiente A:

Ambiente B:


Ambiente C:

Ambiente D:

Nome: _____ Data: ____/____/____


Cadeias alimentares

1. Observa os seguintes animais e, com setas, constrói as cadeias alimentares possíveis.



a) Descreve as cadeias alimentares que construístes.

2. Observa as imagens de cadeias alimentares e completa o quadro, seguindo os exemplos.



| | Produtores | Consumidores de 1.ª ordem | Consumidores de 2.ª ordem | Consumidores de 3.ª ordem |
|--------------------|------------|---------------------------|---------------------------|---------------------------|
| Cadeia alimentar A | Planta | | | |
| Cadeia alimentar B | | | | Águia |




Nome: _____ Data: ____/____/____

A reprodução nos animais

1. Investiga sobre a forma de reprodução dos seguintes animais.



Cavalos




Peixe



Tartaruga

2. Organiza os seguintes animais em grupos quanto à forma de reprodução, como no exemplo.




Nome: _____ Data: ____/____/____

Animais da quinta

1. Os amigos da Maria foram a uma quinta numa visita de estudo com a escola. Aprenderam muitas coisas, no entanto, ainda têm algumas dúvidas que não tiveram tempo de esclarecer.

Responde a cada uma das perguntas. No final, compara as tuas respostas com as dos teus colegas.



a) Porque põem ferraduras nos cavalos? _____

b) Ao colocarem as ferraduras, estão a fazer mal aos cavalos? _____

c) Por que razão as vacas estão sempre a mastigar? _____

d) Porque razão os outros animais, como, por exemplo, os cães, não estão sempre a mastigar, como as vacas? _____

e) Porque razão alguns animais dão leite? _____

f) Que outros animais, que vivam fora da quinta, também põem ovos? _____



SANTILLANA