



Agrupamento de Escolas Ordem de Sant'ago
Escola Básica e Secundária Ordem de Sant'ago
Ficha de Trabalho de Matemática - 6ºano

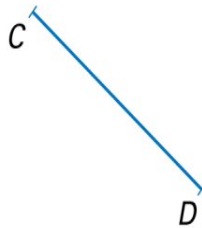

Ano Letivo 2019/2020

5ªFicha

Apreciação:

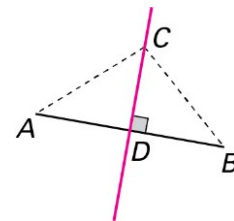
Nome: _____ Nº: _____ Turma: _____ Data: ___/___/___

1) Desenha a mediatriz dos segmentos de reta $[AB]$.



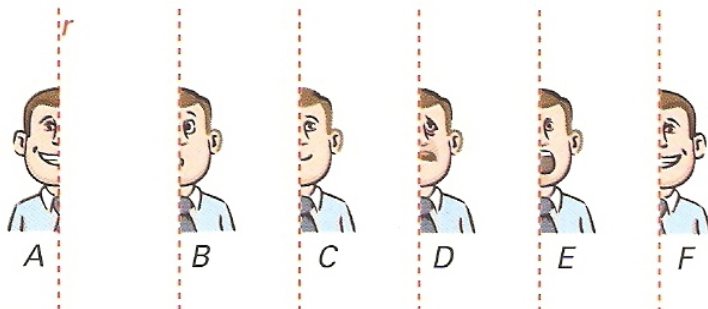
2) Na figura ao lado, a reta CD é a mediatriz do segmento de reta $[AB]$.

Justifica que são iguais os triângulos $[ADC]$ e $[DBC]$.



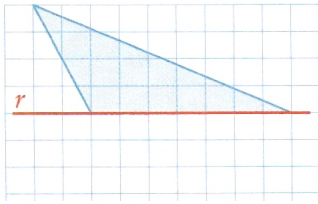
1. Observa a figura.

Qual é a figura transformada da figura **A** pela reflexão de eixo r ?



2. Desenha a figura transformada da figura dada por uma reflexão de eixo r .

3.1.



3.2.

