

FICHA DE TRABALHO - 1

NOME: _____ DATA ___/___/___

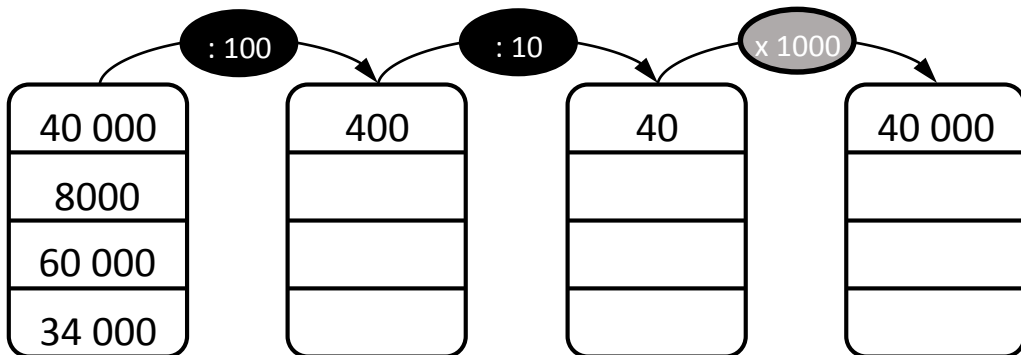
1.- Realiza mentalmente as seguintes operações.

$624 \times 10 =$ _____ $393 \times 100 =$ _____ $40 \times 1000 =$ _____

$346 \times 10 =$ _____ $740 \times 100 =$ _____ $15 \times 1000 =$ _____

$2395 \times 10 =$ _____ $500 \times 100 =$ _____ $850 \times 1000 =$ _____

2.- Completa as tabelas.



3- Realiza mentalmente as seguintes operações.

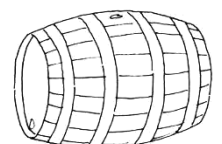
3.1.-O Rui tinha uma caixa com 50 bombons que quis distribuir pelos 10 amigos. Quantos bombons deu a cada amigo.

R.: _____



3.2.- O Sr. Eduardo recolheu 16000 litros de vinho das suas 1000 videiras. Quantos litros de vinho deu cada videira.

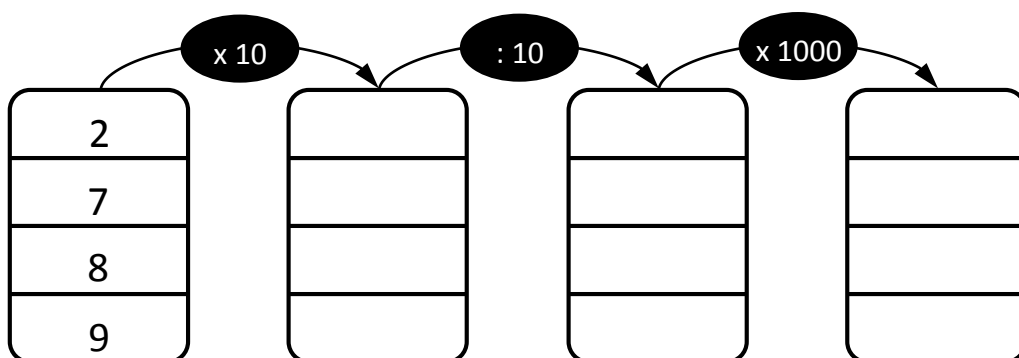
R.: _____



4- Utilizando as regras práticas que aprendeste, completa as operações seguintes.

$$\begin{array}{lll} 5000 : 10 = \underline{\hspace{2cm}} & 17100 : 100 = \underline{\hspace{2cm}} & 32000 : 1000 = \underline{\hspace{2cm}} \\ 9400 : 10 = \underline{\hspace{2cm}} & 49200 : 100 = \underline{\hspace{2cm}} & 70000 : 1000 = \underline{\hspace{2cm}} \\ 5670 : 10 = \underline{\hspace{2cm}} & 82000 : 100 = \underline{\hspace{2cm}} & 63000 : 1000 = \underline{\hspace{2cm}} \\ 4300 : 10 = \underline{\hspace{2cm}} & 39100 : 100 = \underline{\hspace{2cm}} & 91000 : 1000 = \underline{\hspace{2cm}} \\ 1000 : 10 = \underline{\hspace{2cm}} & 20000 : 100 = \underline{\hspace{2cm}} & 20000 : 1000 = \underline{\hspace{2cm}} \\ 9920 : 10 = \underline{\hspace{2cm}} & 51000 : 100 = \underline{\hspace{2cm}} & 16000 : 1000 = \underline{\hspace{2cm}} \end{array}$$

5- Completa as tabelas.



6- Numa fábrica, produzem-se, por dia, 1000 chocolates, que são colocados em caixas de 100 chocolates cada uma.

6.1- Quantos chocolates se produzem durante 15 dias?



R.: _____

6.2- E quantas caixas se conseguem encher em 15 dias?

R.: _____