

## Ficha de Estudo do Meio - 3ºano

Nome: \_\_\_\_\_ Data: \_\_\_\_\_

Classificação: \_\_\_\_\_

1. Observa as imagens. Atribui a cada uma o número da palavra que representa a mesma sensação ou sentimento.

1. Calor



2. Medo

3. Frio

4. Alegria

5. Fúria

6. Dor



2. Assinala com X as frases que demonstram comportamentos que ajudam a manter a saúde do corpo.

- Comer devagar e mastigar bem os alimentos.  
 Consumir bebidas alcoólicas.  
 Tomar banho com frequência.  
 Praticar exercício físico.  
 Fumar e consumir outras drogas.

3. Liga cada sistema à função que desempenha.

Sistema respiratório

Sistema excretor

Sistema digestivo

Sistema circulatório

Sistema reprodutor

Obtém dos alimentos ingeridos os nutrientes necessários ao funcionamento do organismo.

Permite absorver o oxigénio do ar e libertar o dióxido de carbono.

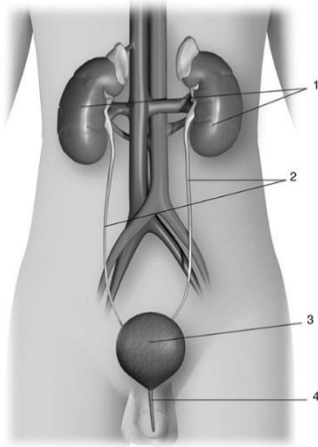
Filtra o sangue e elimina as impurezas através da urina.

Leva o sangue a todas as partes do corpo.

Permite a reprodução humana.

4. Legenda a imagem do sistema urinário.

uretra  
bexiga  
ureteres  
rins

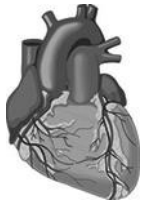


- 1 - \_\_\_\_\_  
2 - \_\_\_\_\_  
3 - \_\_\_\_\_  
4 - \_\_\_\_\_

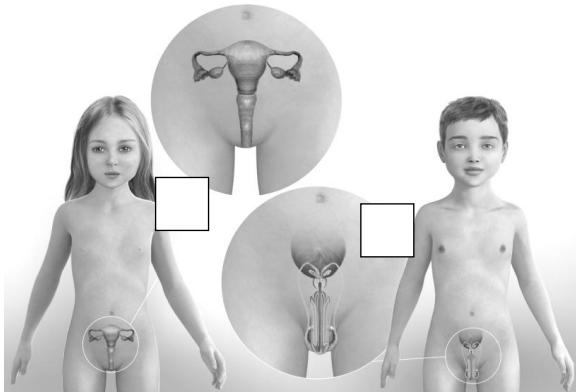
5. Completa a frase sobre o sistema circulatório com as palavras adequadas.

O principal órgão do sistema circulatório é o \_\_\_\_\_.

A sua função consiste em bombear o \_\_\_\_\_ para todas as partes do corpo através dos \_\_\_\_\_.



6. Numera as imagens de acordo com os sistemas reprodutores que lhes correspondem.



**1 – Sistema reprodutor masculino:  
pênis, testículos.**

**2 – Sistema reprodutor feminino:  
ovários, útero, vagina.**

7. Assinala com **V** (verdadeiro) ou **F** (falso).

- Homens e mulheres têm órgãos reprodutores iguais.
- A fecundação é a união do espermatozoide com o óvulo.
- Após a fecundação, forma-se o ovo, que se instala no útero da mulher.
- O período de gravidez dura, normalmente, cerca de 5 meses.

8. Escreve **V** (verdadeiro) ou **F** (falso).

	Em caso de hemorragia, tento estancar o sangue com uma compressa limpa.
	Em caso de mordedura de cão, não preciso de lavar a ferida.
	Se for picado por uma abelha, tento saber se a abelha está vacinada.
	Em caso de queimadura, devemos colocar a zona afetada debaixo da água corrente.
	Nas situações mais graves, devo telefonar para o 112.

9. Escreve o nome de quatro objetos que devem fazer parte de uma caixa de primeiros socorros.

\_\_\_\_\_

\_\_\_\_\_



10. Legenda com as palavras do quadro.

árvore      erva      arbusto



\_\_\_\_\_

\_\_\_\_\_

\_\_\_\_\_

11. Assinala **V** (verdadeiro) ou **F** (falso).

- Apenas algumas árvores têm folhas durante todo o ano.
- As folhas de algumas árvores caem durante o outono e o inverno.
- Todas as árvores têm folhas durante todo o ano.

12. Muitas plantas (ou partes delas) são comestíveis. **Liga** corretamente.

Alface

**Comestível**

Musgo

Roseira

**Não comestível**

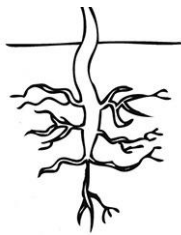
Feijão

13. Legenda, com as palavras do quadro, o tipo de recorte das folhas seguintes:

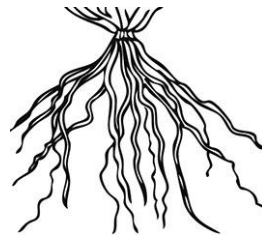


Lisa  
Recortada  
Em agulha

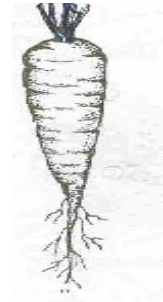
14. Liga de acordo com o tipo de raiz das plantas.



Aprumada



Tuberculosa



Fasciculada

15. Assinala os objetos e os produtos que são feitos a partir de plantas.


Mesa de madeira

Azeite

Bacia de plástico

Sopa de legumes

16. Liga as imagens dos animais aos respectivos grupos.



• mamíferos •



• aves •



• peixes •



• répteis •



• insetos •



• anfíbios •



• moluscos •



16.1. Escreve o nome dos animais invertebrados representados.


---

17. Assinala com (X) a classificação dos animais quanto à sua alimentação.

	Carnívoros	Herbívoros	Omnívoros	Granívoros	Insectívoros
Vaca					
Homem					
Galinha					
Leão					
Cavalo					
Sapo					
Porco					
Lobo					

18. Ordena estes seres vivos de forma a teres uma **cadeia alimentar**.

• cordeiro • couve • lobo



19. Indica as três principais causas das migrações das aves.

---

---



19.1 Indica dois exemplos de aves que migram.

---

---