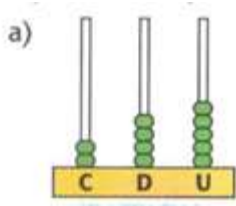


Ficha de trabalho – Matemática – 2º Ano

Nome: _____ Data: ___/___/___

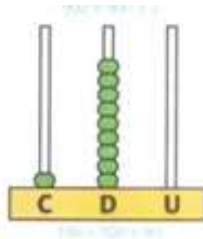
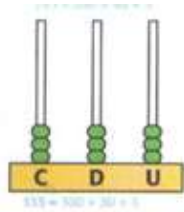


1) Segue o exemplo a):

Cento e quarenta e cinco

1 Centena, 4 Dezenas e 5 Unidades

$100 + 40 + 5 = 145$



2) Coloca os números (150; 103; 95; 199; 167) nos locais corretos

C	D	U

3) Escreve os números por extenso:

145- _____

109- _____

198 - _____

134 - _____

181 - _____

4) Completa as seguintes tabelas:

	- 1	101	+1
		111	
		121	
		152	
		162	
		144	
		145	
		164	

	- 10	101	+10
		111	
		121	
		152	
		162	
		144	
		145	
		164	

5) Complete os quadros seguintes com as centenas, as dezenas e as unidades.

The image shows four place value charts, each with columns for Centenas (C), Dezenas (D), and Unidades (U). Above each chart are base ten blocks representing a number. The first chart has 1 ten rod and 11 unit cubes. The second has 3 ten rods and 11 unit cubes. The third has 1 hundred flat, 1 ten rod, and 11 unit cubes. The fourth has 1 hundred flat, 2 ten rods, and 11 unit cubes.

6) Escreve os números ordinais por extenso.

1º		11º	
2º		12º	
3º		13º	
4º		14º	
5º		15º	
6º		16º	
7º		17º	
8º		18º	
9º		19º	
10º		20º	